






نوع التقويم : الفرض الأول في مادة علوم الطبيعة و الحياة .

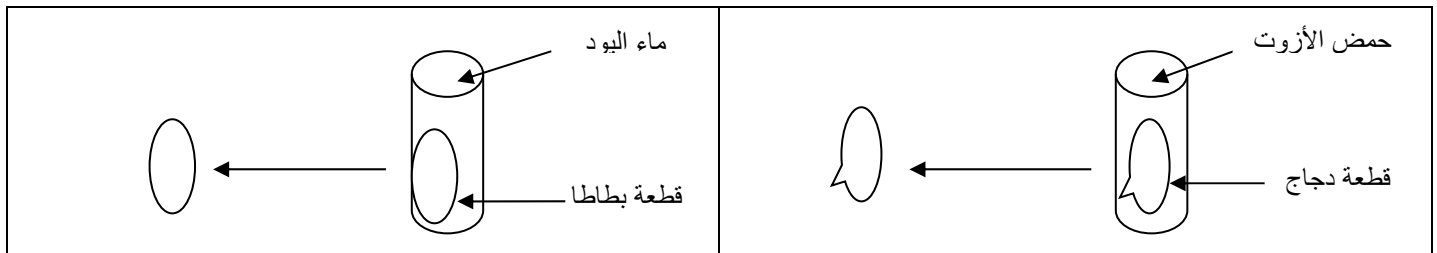
التمرين الأول 8 ن

تناولت في وجبة الغداء بطاطا مقلية ، دجاج محمر ، قطعة خبز ، كوب من الحليب الرائب و كأس ماء.

1 - صنف في الجدول التالي مكونات الوجبة الغذائية حسب المصدر التركيب .

الغذاء	المصدر	التركيب
		
		
		
		
		

2 - نريد الكشف عن الغذاء البسيط السائد في البطاطا و الدجاج من خلال التجربة التالية : باستعمال الألوان أظهر لون التفاعل .



3- سم الغذاء البسيط السائد في الدجاج و البطاطا

التمرين الثاني 4 ن

اربط بسهم بين كل شخص و راتبه الغذائي :

- * راتب النمو .
- * راتب الإنتاج .
- * راتب الصيانة .
- * راتب العمل .

- * - عمو إسماعيل بناء
- * - ليلي تلميذة عمرها 11 سنة
- * - سميرة امرأة حامل
- * - جدو صالح متقاعد

