
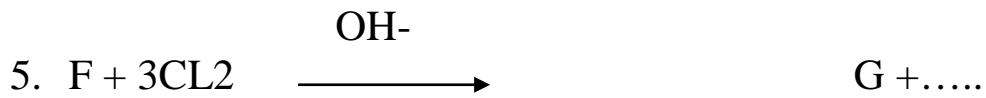
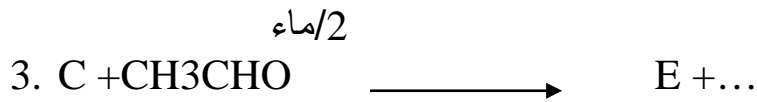



## التمرين 31 :

لديك التفاعلات المتسلسلة التالية :



ايثر



0

المطلوب :

1. أكمل كتابة التفاعلات موضحا الصيغ نصف المفصلة للمركبات من

A/B/C/D/E/F/G/H/I

2. وضح آلية التفاعلين 1 و 2 .