

مارس 2015

المستوى: الأولى ابتدائي (1AP)

اختبار رقم 1 للفصل الثاني في مادة التربية العلمية

التمرين الأول: اكتب (ص) أو (خ) أمام كل جملة :

.....

- أشم الروائح الطيبة بأذني

.....

- جسمي ينثني

.....

- جسمي لا يحتاج إلى الهواء

.....





- الشكولاتة تذوب بفعل الحرارة

التمرين الثاني: أصنف الأشياء التالية في الجدول (خشب - حليب - ماء

قلم - طباشير) :

مادة صلبة	مادة سائلة
.....
.....
.....

التّمرين الثالث: أُلَوِّنُ الأَجْسَامَ الَّتِي تَتَحَوَّلُ مِنْ صَلْبَةٍ إِلَى سَائِلَةٍ بِالْأَحْمَرِ:

			
شَمْعَةٌ	شُكُولَاطَةٌ	تُفَّاحَةٌ	بُوظَةٌ

التّمرين الرابع: أَرْبِطُ كُلَّ غِذَاءٍ بِمَصْدَرِهِ :

مَصْدَرٌ حَيَوَانِي

مَصْدَرٌ نَبَاتِي

- بَيْضٌ

- جَزَرٌ

- حَلِيبٌ

- تُفَّاحٌ

- لَحْمٌ

- عَصِيرٌ

تصحیح اختبار رقم 1 للفصل الثاني في مادة التربية العلمية

التمرين الأول: أكتب (ص) أو (خ) أمام كل جملة (2ن)

خ

- أشم الروائح الطيبة بأذني

ص

- جسمي ينثني

خ

- جسمي لا يحتاج إلى الهواء

ص

- الشكولاتة تذوب بفعل الحرارة

التمرين الثاني: أصنف الأشياء التالية في الجدول (- خشب^{٢٨} - حليب^{٢٨} - ماء^{٢٨} - قلم^{٢٨} - طباشير^{٢٨} - عصير^{٢٨}) (3ن) .

مادة صلبة	مادة سائلة
- خشب ^{٢٨}	- حليب ^{٢٨}
- قلم ^{٢٨}	- ماء ^{٢٨}
- طباشير ^{٢٨}	- عصير ^{٢٨}

التمرين الثالث: ألون الأجسام التي تتحول من صلبة إلى سائلة بالأحمر (2ن) .

شمعة ^{٢٨}	شكولاتة ^{٢٨}	تفاحة ^{٢٨}	بوضة ^{٢٨}

التمرين الرابع: أَرْبِطُ كُلَّ غِذَاءٍ بِمَصْدَرِهِ (3ن) .

مَصْدَرٌ حَيَوَانِي

مَصْدَرٌ نَبَاتِي

- بَيْضٌ

- جَزْرٌ

- حَلِيبٌ

- تَفَاحٌ

- لَحْمٌ

- عَصِيرٌ