



مادة التاريخ

الجزء الاول: (06 ن).

1- اشرح المصطلحات التالية:

- القوة الثالثة - المائدة المستديرة - المنظمة الخاصة .

2- إليك التواريخ المعلمية التالية الخاصة بتاريخ الجزائر؛ حدد الأحداث المرتبطة بكل تاريخ:

* 08 فيفري 1958 * 27 أفريل 1958 * 19 سبتمبر 1958

الجزء الثاني: (04 ن).

في اجتماع الأعضاء الاثني والعشرين (22) بـكلو صالمبي " المدنية حاليا " 25 جوان 1954 قال ديدوش مراد :
" إن الشعب أشبه بغصن يابس لا ينتظر سوى النار ليشتعل , يجب أن نعطي الانطلاقة وإذا استشهدنا فسيخلفنا آخرون يواصلون السير بالثورة قدما نحو الاستقلال يجب أن نشعل الفتيلة, ومن اجل هذا فلسنا في حاجة إلى وسائل ضخمة... "

المرجع : دورية الذاكرة - المتحف الوطني للمجاهد - السنة الأولى - العدد الأول 1994 - ص.19

المطلوب:

- انطلاقا من السند واعتمادا على ما درست أجب على الأسئلة التالية:

1- التطورات التي عرفتتها الحركة الوطنية من 1950 الى 1954.

2- استعرض الظروف المحلية والعربية التي أحاطت باندلاع الثورة الجزائرية.

مادة الجغرافيا

الجزء الاول: (06 ن).

1 - اشرح المصطلحات التالية:

- مبدأ الأفضلية - التكتل - التينيات الآسيوية.

2 - على خريطة أوربا المرفقة, حدد الدول الأعضاء حسب تاريخ انضمامها حتى سنة 1973 .

الجزء الثاني: (04 ن).

إليك جدول يمثل أهم الدول المنتجة للبتترول لسنة 2000 .

الدولة	المملكة العربية السعودية	و.م.أ	روسيا	فنزويلا	إيران
كمية الإنتاج مليون / طن	448	352	323	181	176

المرجع : حالة العالم 2002 .


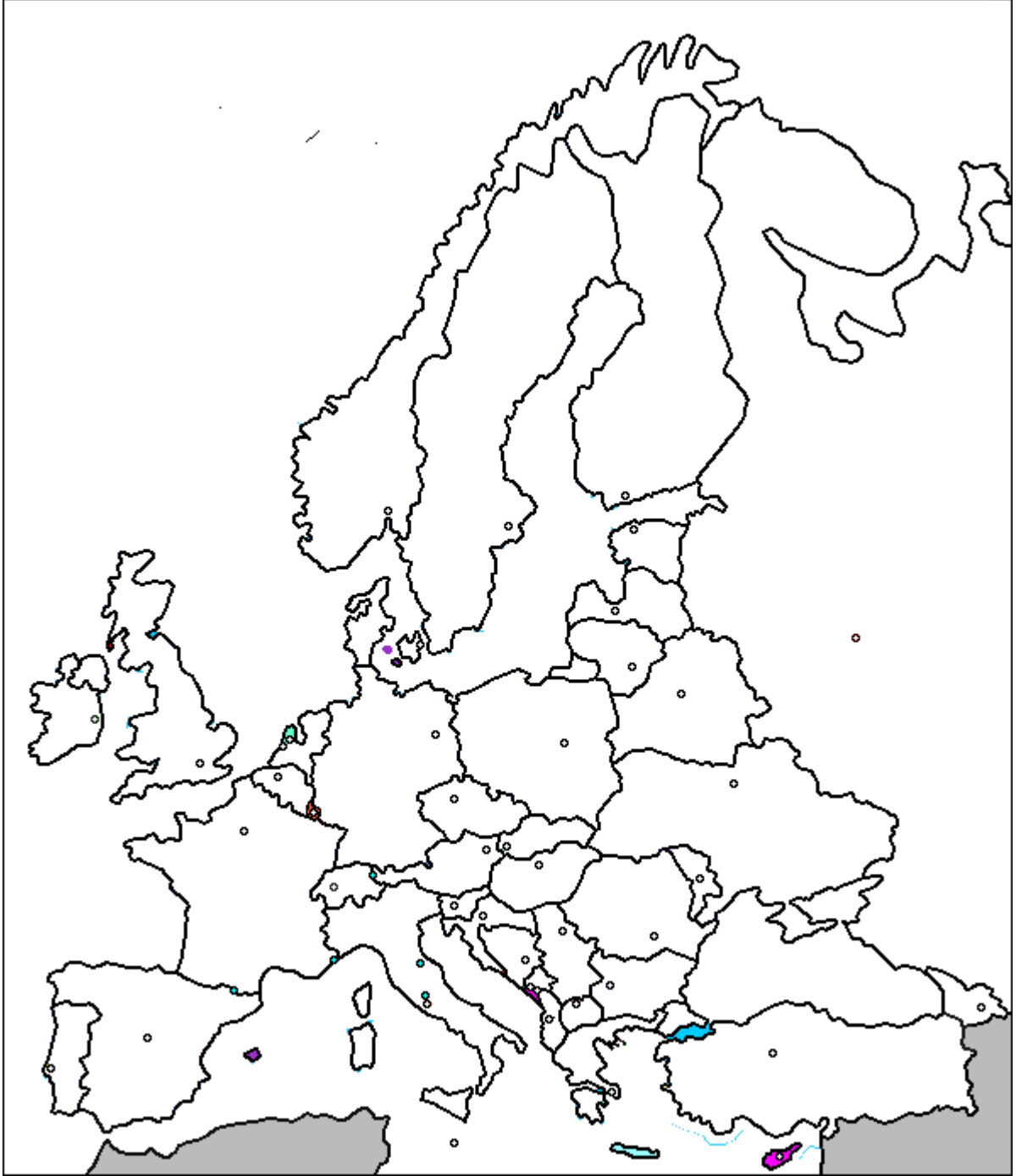
المطلوب:

1 - مثل كمية الإنتاج بأعمدة بيانية , بمقياس : [سم ← 50 م ط .

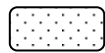
2 - استخرج من الجدول الدول المنخرطة في منظمة الاوببي .

3 - بين الدور الاقتصادي والسياسي لهذه المادة.

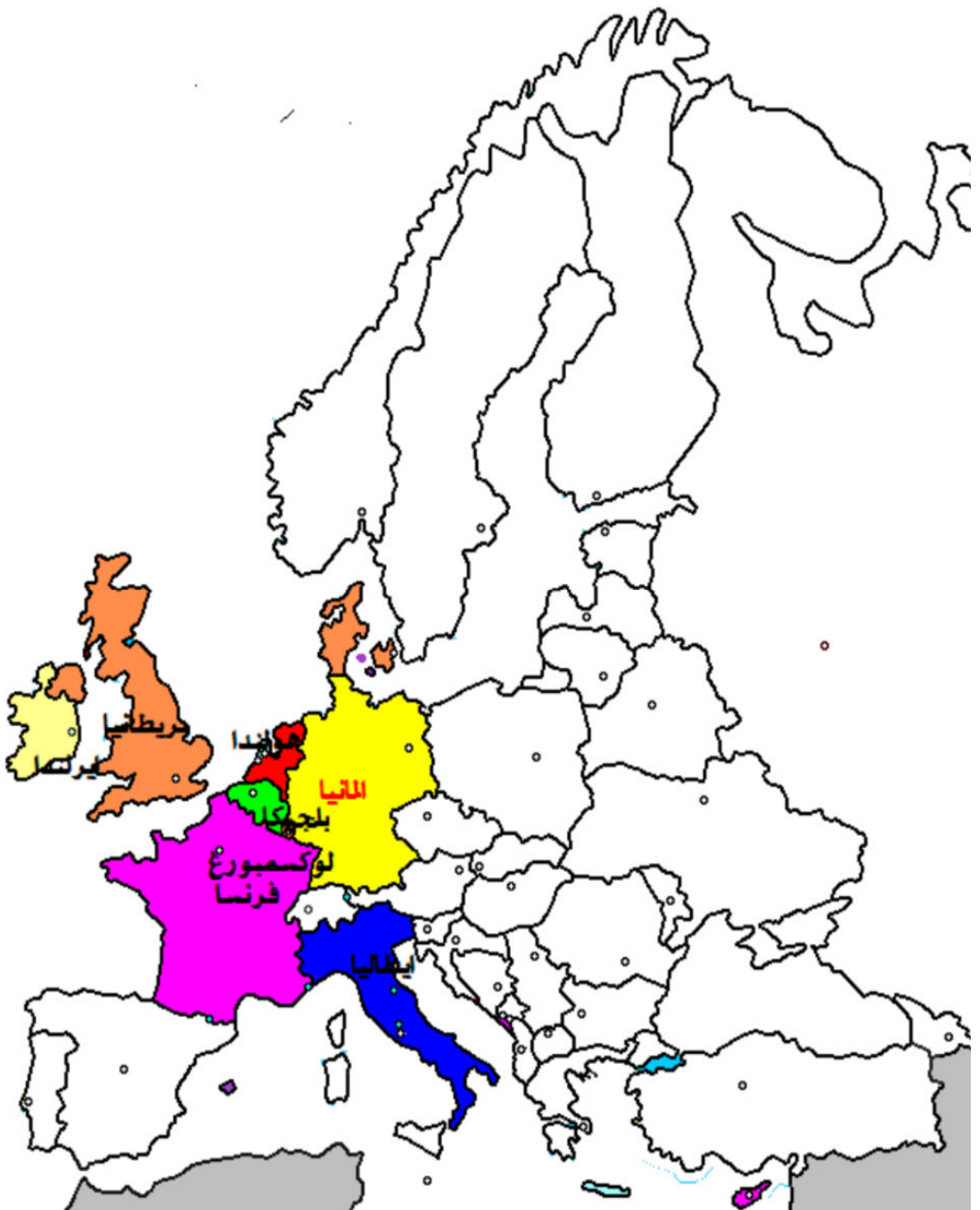
خريطة أوروبا



الدول المنظمة سنة 1957



الدول المنظمة سنة 1973





مادة التاريخ

الجزء الاول: (06 ن).

العلامة	عناصر الإجابة	محاوور الإجابة
03	01	<u>القوة الثالثة</u> : طبقة بورجوازية عميلة دعمتها فرنسا كبديل عن الثورة و جهازها السياسي جبهة التحرير. <u>المائدة المستديرة</u> : محاولة فرنسا إشراك عدد كبير من المفاوضين الجزائريين لضرب جبهة التحرير و <u>المنظمة الخاصة</u> : الجناح المسلح لحركة حركة انتصار الحريات الديمقراطية تأسست في 1947/02/15
	01	
	01	
03	01	- <u>8 فيفري 1958</u> : أحداث ساقية سيدي يوسف . - <u>19 سبتمبر 1958</u> : تأسيس الحكومة الجزائرية المؤقتة . - <u>22 أبريل 1958</u> : انعقاد قمة طنجة .
	01	
	01	

الجزء الثاني: (04 ن).

المقدمة : نضج الحركة الوطنية استعداد الشعب و النخبة لتفجير الثورة

0.25

02	0.5	1-اكتشاف أمر المنظمة الخاصة. 2-إنشاء الجبهة الجزائرية للدفاع عن الحرية 1951/08/05. 3 -أزمة حركة انتصار الحريات الديمقراطية . 4-إنشاء اللجنة الثورية للوحدة و العمل 1954/03/23. 5-انعقاد لجنة 22 في المدنية و كذا لجنة الستة و تحديد تاريخ اندلاع الثورة، تحويل الحركة إلى جبهة التحرير الوطني و الاتفاق على صياغة بيان نوفمبر .	<u>تطور الحركة الوطنية بين 1950-1954 .</u>
	0.5		
	0.5		
	0.5		
1.5	0.5	<u>الظروف المحلية</u> : 1- تدهور الوضع الاجتماعي للسكان و تنامي الوعي الوطني 2- زيادة القمع الاستعماري بعد اكتشاف المنظمة الخاصة السرية 3- السياسة الفرنسية (تجهيل -تفقير- تزوير) . 4- الصراع الداخلي (أزمة حركة انتصار الحريات الديمقراطية) . <u>الظروف العربية</u> : 1- تأسيس جامعة الدول العربية في 1945. 2- استقلال سوريا و لبنان في 1946 3- نجاح الثورة المصرية في 1952 و دعمها لحركة التحرر العربية 4- ظهور الكفاح المسلح في كل من تونس و المغرب .	<u>الظروف المحلية و العربية التي أحاطت باتدلاع الثورة</u>

الخاتمة: الحركة الوطنية من النضال السياسي إلى الكفاح المسلح

0.25

مادة الجغرافيا

الجزء الاول: (06 ن).

العلامة	عناصر الإجابة	محاوور الإجابة
06	1.25	<u>مبدأ الأفضلية</u> : هو مبدأ تبنته دول الاتحاد الأوربي حيث يسمح بموجبه للدول التي تملك إمكانيات أن تستغلها على حساب الدول ذات الإمكانيات الضعيفة و خاصة في مجال الصيد البحري (مثل اسبانيا و فرنسا + بريطانيا و ايرلندا) <u>التكتل</u> : هي عبارة عن معاهدات في المجال الاقتصادي بهدف توحيد السياسات الاقتصادية مثل التكتل الاقتصادي بين دول الاتحاد الأوربي في
	01	

1.5	التينيات الأربعة : و هي الدول الأربعة الآسيوية (كوريا الجنوبية + تايوان + هون كونغ + سنغافورة) و تعرف بالدول الحديثة التصنيع و نموها الصناعي السريع و اعتمادها على الاستثمارات الأجنبية .
-----	---

الخريطة: ألمانيا - فرنسا - إيطاليا - هولندا - بلجيكا - لوكسمبورغ - 1985 - بريطانيا - الدنمارك - إيرلندا - 1973 - 9x
2.25/0.25

الجزء الثاني: (04 ن).

0.25..... المقدمة : وثيقة اقتصادية تمثل أهم الدول المنتجة للبترول في العالم

العلامة		عناصر الإجابة	محاو الإجابة
01	01	الانجاز + العنوان +لمفتاح .	التمثيل البياني
0.5	0.5	يمثل الجدول أهم الدول المنتجة للبترول سنة 2000 : يمكن تقسيمها إلى : دول متقدمة : و.م.ا+ روسيا دول متخلفة : السعودية + إيران + فنزويلا . تأتي السعودية على رأس الدول المنتجة .	التعليق
01		السعودية+ إيران + فنزويلا.	الدول المنخرطة في منظمة الاوبيب
01	0.5	ا- الدور الاقتصادي : - مصدر أساسي للدخل القومي بالنسبة لكثير من دول العالم . - يمثل العمود الفقري بالنسبة لاقتصاديات بعض الدول كالكويت مثلا . - مادة أولية لكثير من الصناعات . - مصدر أساسي للطاقة . - مادة تجارية أساسية في سوق المبادلات التجارية العالمية . - تأثر السياسة التنموية للدول المصدرة بسبب تذبذب الأسعار . ب - الدور السياسي: - أداة ضغط سياسية في يد الدول المنتجة (حرب 1973) . - مصدر لكثير من الصراعات و النزعات الإقليمية و الدولية .	الدور الاقتصادي و السياسي للبترول

0.25..... الخاتمة: البترول مادة إستراتيجية و محل صراع بين المنتجين و المستهلكين