

شعبة علوم تجريبية + رياضيات + تقني رياضي

اختبار الفصل الأول في مادة التاريخ و الجغرافيا

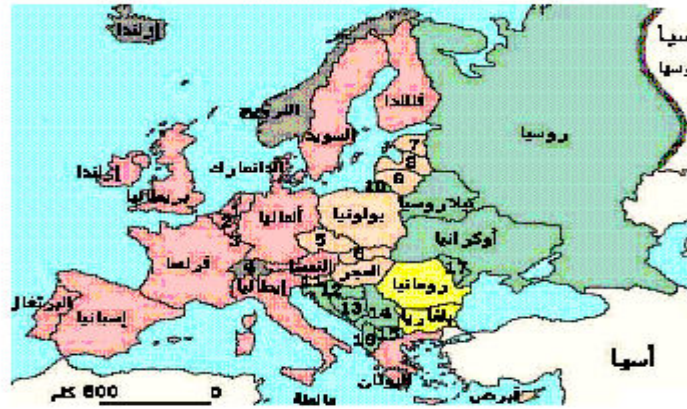
أولا التاريخ

الجزء الأول (06)

- 1 - اشرح المصطلحات: الحرب الباردة، الحركة التحررية، توازن الرعب
- 2 - عرف بالشخصيتين التاليتين: هاري ترومان ، ونستون تشرشل
- 3- أكمل الجدول التالي

التاريخ	الحدث
1945 /08 /09,06	مشروع مارشال
	تأسيس منظمة الكومكون
1955/05/14	

- 1- حدد موقع ثلاث دول تقع شرق الستار الحديدي و ثلاث دول تقع غرب الستار من اختيارك على خريطة أوروبا المرفقة
خريطة أوروبا



الجزء الثاني (04 نقاط)

بإعلان قيام حلف الشمال الأطلسي (ناتو) سنة 1949 يكون الصراع بين الشرق و الغرب قد انتقل من طوره الإيديولوجي و الدعائي و السياسي إلى الطور العسكري الذي تصاعد تدريجيا إلى مرحلة سباق التسلح النووي ، ورسخ قيام حلف الناتو ومن بعده بست سنوات حلف وارسو القطيعة بين الشرق والغرب ، وتم تعطيل المناقشات التي كانت جارية بين القوى الكبرى لترتيب أوضاع أوروبا ، وظلت بالتالي جميع القضايا الخلافية الرئيسية قائمة من دون حسم .

المطلوب:

- 1- انطلاقا من الوثيقة واعتمادا على ما درست أكتب مقالا تاريخيا تبرز فيه:
الظروف والعوامل التي دفعت الدول الكبرى لإنشاء هذه الأحلاف .
- 2-خطورة الحل العسكري على المعسكرين والعالم.

ثانيا الجغرافيا

الجزء الأول (06ن)

- 1 ما المقصود بالعبارة": تنحصر كلها في أيدي الأقلية
- 2 الوسائل التي تعتمدھا دول الشمال في الهيمنة علي الاقتصاد العالمي
- 3 وقع على خريطة العالم الصماء الخط الفاصل بين عالم الشمال و عالم الجنوب :

الجزء الثاني (04نقاط)

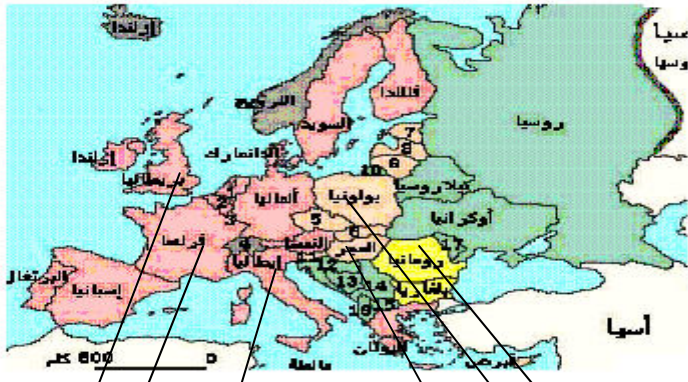
يمثل البترول أهم مصدر للطاقة في العالم وهو بذلك يشكل عنصرا أساسيا في الاقتصاد العالمي كما يمثل ركيزة لاقتصاد دول الأوبك. التعليم:

انطلاقا من الفكرة و اعتمادا على ما درست أكتب مقالا جغرافيا تبين فيه ما يلي

- 1- أهمية البترول
- 2- أثره في اقتصاديات دول الأوبك

الإجابة على الموضوع

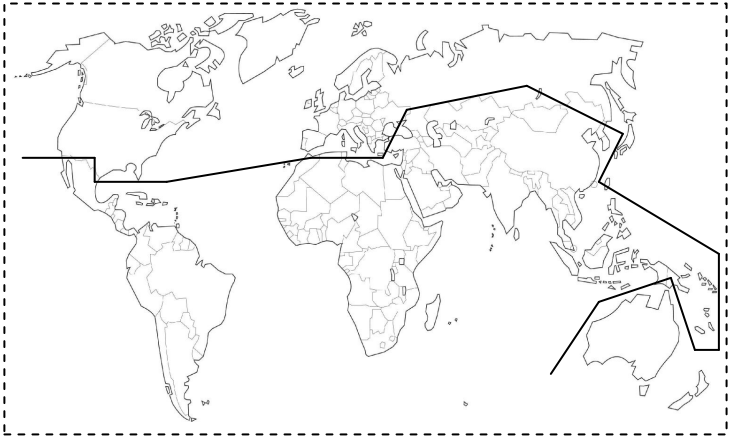
المادة تاريخ
الجزء الأول (06نقط)

العلامة	الإجابة	المطلب										
0,5	هي ذلك الصراع الإيديولوجي بين المعسكرين الشرقي والغربي استعملت فيها مختلف الوسائل باستثناء المواجهة العسكرية المباشرة	الحرب الباردة										
01	هو اتجاه وطني يقود نضال الشعوب بهدف التخلص من الظلم والاستعباد .	الحركة التحررية										
	هو تحكم المعسكرين في إنتاج السلاح الذري بعدما تمكن الاتحاد السوفييتي من ذلك سنة 1949	توازن الرعب										
01	هو هاري ترومان رئيس الولايات المتحدة الأمريكية بعد روزفلت، استعمل القنبلة الذرية ضد اليابان عام 1945 كما اتخذ موقفا عدائيا صارما ضد الاتحاد السوفييتي صاحب مبدأ ينسب إليه والقائم على تقديم المساعدات للدول الديمقراطية لتقوية مركزها أمام الشيوعيين	ترومان										
0,5	سياسي بريطاني تولى رئاسة الوزارة البريطانية بين عامي 1940-1945 قاد بريطانيا للنصر في ح. ع. 2.	ونستون تشرشل										
01	<table border="1" style="width: 100%;"> <thead> <tr> <th>التاريخ</th> <th>الحدث</th> </tr> </thead> <tbody> <tr> <td>06 و 09 / 08 / 1945</td> <td>تفجير القنبلة الذرية (هيروشيما ناغازاكي)</td> </tr> <tr> <td>05 / 06 / 1947</td> <td>مشروع مارشال</td> </tr> <tr> <td>25 / 01 / 1949</td> <td>تأسيس منظمة الكومكون</td> </tr> <tr> <td>14 / 05 / 1955</td> <td>تأسيس حلف وارسو</td> </tr> </tbody> </table>	التاريخ	الحدث	06 و 09 / 08 / 1945	تفجير القنبلة الذرية (هيروشيما ناغازاكي)	05 / 06 / 1947	مشروع مارشال	25 / 01 / 1949	تأسيس منظمة الكومكون	14 / 05 / 1955	تأسيس حلف وارسو	إتمام الجدول
التاريخ	الحدث											
06 و 09 / 08 / 1945	تفجير القنبلة الذرية (هيروشيما ناغازاكي)											
05 / 06 / 1947	مشروع مارشال											
25 / 01 / 1949	تأسيس منظمة الكومكون											
14 / 05 / 1955	تأسيس حلف وارسو											
02	 <p style="text-align: center;">03 دول شرق الستار الحديدي</p> <p style="text-align: center;">03 دول شرق الستار الحديدي</p>	تحديد موقع ثلاث دول شرق الستار الحديدي وثلاث دول غربه										

الإجابة عن الجزء الثاني (04 ن) للموضوع الثاني في مادة التاريخ

العلامة		عناصر الإجابة	محااور الموضوع
المجموع	مجزأة		
0,5		يعتبر إنشاء الأحلاف العسكرية بعد .ح. ع. 2 من أكبر مظاهر الصراع الذي احتدم بين الشرق والغرب في أطار ما يسمى بالحرب الباردة	المقدمة
03	01,5	<p>1- الظروف والعوامل التي دفعت الدول الكبرى لإنشاء هذه الأحلاف</p> <p>زوال خطر النازية.</p> <p>- تعارض النظامين الرأسمالي و الاشتراكي.</p> <p>تصدع التحالف بين الإتحاد السوفيتي والغرب .</p> <p>-الانتصار السوفيتي المحقق شرق القارة الأوروبية .</p> <p>-تدعيم الدفاع عن أوروبا الغربية بالتجمعات العسكرية و المشاريع الاقتصادية.</p> <p>-الإبقاء على ما تبقى من المستعمرات ومناطق النفوذ من أجل الفوائد الاقتصادية والاستغلال العسكري والإستراتيجي .</p> <p>-المحافظة على إسرائيل لحماية الوجود الغربي في منطقة الشرق الأوسط.</p> <p>- تخوف كل معسكر من المعسكر المعادي</p>	العرض
	01,5	<p>2- خطورة الحل العسكري على المعسكرين و العالم</p> <p>أ- على المعسكرين</p> <p>- ظهور الأسلحة الأكثر خطورة (الميدروجينية، النووية)</p> <p>- تحقق نوع من توازن الرعب النووي .</p> <p>-تأكد الطرفان بأن الدخول في مواجهة عسكرية يعني الفناء للجميع</p> <p>ب- على العالم</p> <p>- زرع القواعد العسكرية الأجنبية في دول العالم كان يعني استغلالها لحماية المصالح الحيوية للمعسكرين (ضرب العراق عام 1991).</p> <p>-إجراء التجارب النووية و المناورات العسكرية.</p> <p>القيام بانقلابات والتدخل العسكري (تشيكو سلوفيتا 1968).</p> <p>قمع حركات التحرر (الفيتنام ، الجزائر).</p> <p>- تهديد العالم بحرب عالمية ثالثة نووية .</p>	
0,5		أمام توازن الرعب النووي لدى الو . م . أ و الإ. س. تأكد كل طرف من استحالة تحقيق انتصار حاسم على الطرف الآخر، سلم العملاقان بفكرة التعايش السلمي التي ساهمت في إضفاء نوع من الانفراج والأمن في العلاقات الدولية	الخاتمة
04			المجموع

المادة: جغرافيا
الجزء الأول (06)

العلامة	الإجابة	المطلب
01	سيطرة الدول المتقدمة التي تمثل أقلية في العالم على الاقتصاد العالمي إنتاجا واستهلاكاً	المقصود بعبارة " : تنحصر كلها في أيدي الأقلية
02	<p>-الشركات المتعددة الجنسيات تعد أهم الأدوات باستثمارها و رؤوس أموالها وتقنياتها.</p> <p>-المؤسسات الدولية المختصة الخاضعة لتأثير نفوذ الدول الكبرى كصندوق النقد الدولي و البنك العالمي .</p> <p>-المنظمات العالمية المختصة بالمنظمة العالمية للتجارة .</p> <p>-القوة المالية و التكنولوجية للدول الكبرى التي تخضع بواسطتها الدول الضعيفة و تجعلها خاضعة و تابعة لها بواسطة المساعدات و القروض.</p>	الوسائل التي تعتمد عليها دول الشمال في الهيمنة على الاقتصاد العالمي:
02		توقيع الخط الفاصل بين عالم الشمال و عالم الجنوب :
06		المجموع

الإجابة عن الجزء الثاني (04 ن) للموضوع الثاني في مادة الجغرافيا

العلامة		عناصر الإجابة	محاور الموضوع
المجموع	مجزأة		
0,5		يمثل البترول عصب النشاط الاقتصادي في زماننا هذا ، توزيعه، انتاجه واستهلاكه في العالم غير متوازن جغرافيا بفعل أسباب طبيعية، اقتصادية وتكنولوجية	المقدمة
03	01,5	<p>1- أهمية البترول:</p> <ul style="list-style-type: none"> - أهم مصدر للطاقة في عالمنا المعاصر . - أهم مورد للكثير من الدول المتخلفة خاصة منها الدول الأوبك حيث تمثل مداخله في الكثير منها أكثر من 60% وتصل في بعض الدول مثل ليبيا إلى 98% وكذا الحال في الجزائر والأمارات العربية . -تعدد مجالات استعماله: * طاقة محرك*البلاستيك * الزيت *الصناعة النسيجية. -سهولة استخراجة و تسويقه. 	العرض
	01,5	<p>2 - أثره في اقتصاديات دول الأوبك</p> <ul style="list-style-type: none"> - مصدر العملة الصعبة . - مصدر لتمويل المشاريع الاقتصادية . - مصدر لتغطية الواردات من المواد الغذائية. - مصدر لتمويل المشاريع الاجتماعية . - مصدر لتحقيق فائض في الميزان التجاري 	
0,5		ضرورة ترشيد استهلاك البترول بما يضمن الحفاظ على النمو الاقتصادي العالمي ومصالح شعوب العالم الثالث من جهة والحفاظ على البيئة في الدول المنتجة والمصدرة من جهة أخرى	الخاتمة
04			المجموع