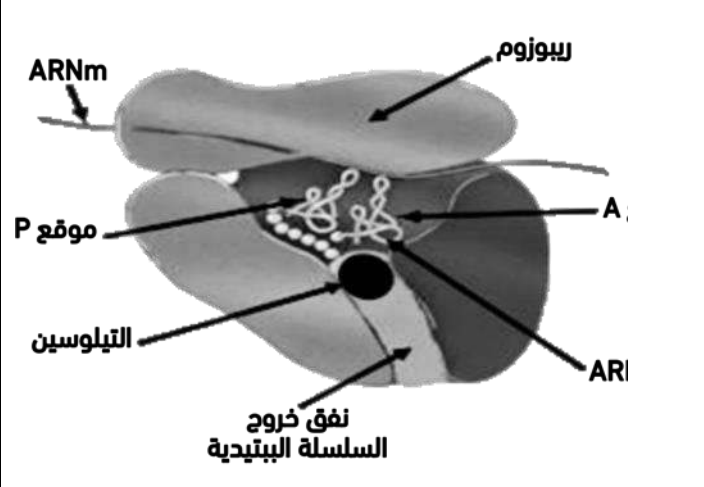
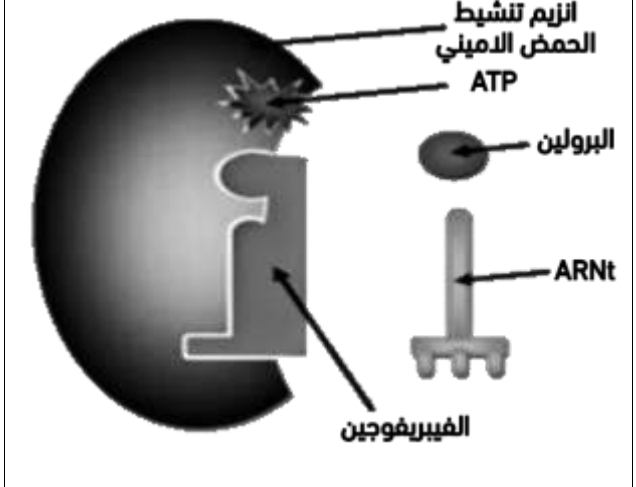


الفرض الاول في مادة علوم الطبيعة والحياة

التمرين الاول

البروتينات جزيئات حيوية تقوم بأدوار هامة على مستوى العضوية تضمن استمرار حياة الكائن الحي، الا ان بعض المواد مثل الفيبريفوجين Febrifugine و التيلوسين Tylosine يمكن ان تؤثر سلبا على عملية تركيب البروتين مثلما توضحه الوثيقة التالية:

	
<p>الشكل ب</p>	<p>الشكل أ</p>
<p>الوثيقة</p>	

ملاحظة: لكل حمض أميني إنزيم تنشيط الحمض الأميني خاص به، حيث يقوم بربط الحمض الأميني بال-ARNt الموافق له حسب الشفرة الوراثية.
 - اختر الاجابة الصحيحة او الاجابات الصحيحة من الاختيارات التالية:
 أ- عند استعمال الفيبريفوجين تنتشط:

- عملية تنشيط الاحماض الامينية
- عملية الترجمة
- عملية تنشيط الاحماض الامينية و الترجمة ب- عند استعمال التيلوسين:
- تنتشط عملية تشكيل الروابط البيبتيدية
- يختفي البوليزوم

تنتبذ عملية دخول الـARNt في الموقع A ج- عند استعمال الفيبريفوجين و التيلوسين معا:

يستمر تشكل الـARNm

يتم دخول برولين-ARNt بصورة عادية لكن تتوقف عملية استطالة السلسلة البيبتيدية

تتوضع تحت الوحدة الصغرى للريبوزوم على الـARNm لكن لا يتشكل معقد الانطلاق د- في وجود الفيبريفوجين:

يتم ربط الحمض الاميني غلايسين بالـARNt الخاص به

يستمر تركيب البروتينات التي لا تحتوي على الحمض الاميني برولين

يتوقف تركيب البروتينات التي تحتوي على الحمض الاميني برولين

2- اشرح في نص علمي التاثير السلبي للمادتين المدروستين على استمرار حياة الكائن الحي

التمرين الثاني

الإيلاستين((Iastine) بروتين يركبه خلايا الجدار الحويصلات الرئوية يؤمن مرونتها أثناء الحركة التنفسية (الشهيق والزفير).

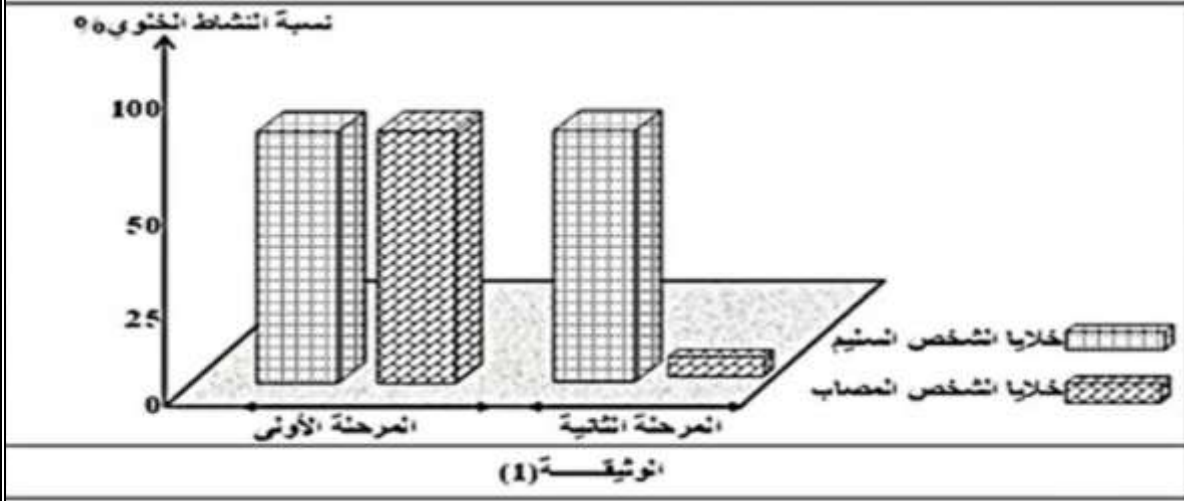
آفة التدخين تعطل تركيب الإيلاستين مما يفقد الحويصلات الرئوية مرونتها وتصبح عملية التهوية صعبة جدا مسببا الإنتفاخ المزمن وهو مرض يتميز بتدمير الحويصلات الرئوية حيث يبقى الهواء محصورا بها وينتهي بموت المدخن إن لم يقلع في وقت مبكر.

للقوف في أي مستوى يعطل تركيب البروتين الإيلاستين نقترح عليك الدراسة التالية:

الجزء الأول:

تركيب البروتينات بالخلايا حقيقيات النواة يمر بمرحلة أولى تعقبها مرحلة ثانية مكلمة.

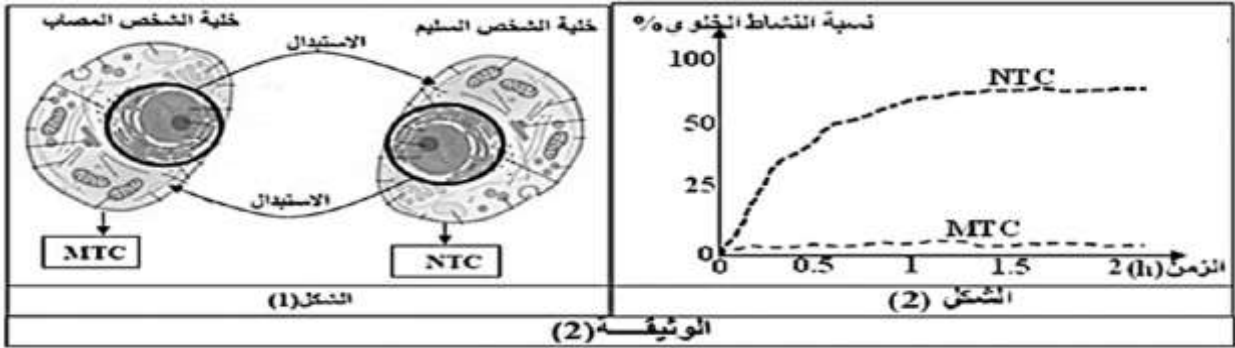
الوثيقة(1) تمثل نتائج قياس نسبة نشاط خلايا جدار الحويصلات الرئوية خلال مرحلتي التركيب البروتين مأخوذة من شخص سليم وأخرى من شخص مصاب بالنفخ الرئوي.



- 1- حَلِّل معطيات الوثيقة (1)، مبرزاً المشكلة العلمية التي تطرحها هذه النتائج.
- 2- اقترح فرضيتين لحل المشكلة العلمية المطروحة.

الجزء الثاني:

للتحقق من صحة الفرضيات المطروحة سابقاً أجريت التجارب التالية: بواسطة تقنية خاصة تم استبدال النواة والشبكة الهيولية المحيطة بين خليتي شخص سليم وآخر مصاب بالانتفاخ الرئوي. الشكل 1 من الوثيقة 2 يمثل التجربة والخلايا الجديدة المتحصلة عليها. الشكل 2 من نفس الوثيقة يمثل نتائج قياس نسبة نشاط الخليتين الجديتين (MTC و NTC) في المرحلة الثانية من تركيب البروتين.



- 1- فسّر منحنى الشكل (2) من الوثيقة (2).
- 2- باستغلالك لهذه النتائج ناقش الفرضيات المقترحة سابقاً.
- 3- من ما توصلت إليه من معارف قَدِّم نصيحة للمدخنين تحثهم فيها بالأدلة العلمية على الإقلاع عن التدخين.

الجزء الثالث:

تجنيداً للمعلومات المتوصل إليها في هذه الدراسة ومعارفك بين بمخططات آلية حدوث مرحلتي تركيب البروتين بالخلايا السليمة والخلايا المصابة بالانتفاخ الرئوي.

التمرين الاول

1. اختيار الاجابة أو الاجابات الصحيحة :
أ: عند استعمال الفيروكوجين تثبط :
1- عناية تنشيط الأحماض الأمينية 2 - عملية الترجمة 3- عملية تنشيط الأحماض الامينية و الترجمة معا
ب: عند استعمال التيلوسين :
2-يختفى البوليزوم
ج: عند استعمال الفيروكوجين و التيلوسين معا :
1- يستمر تشكيل ARNm
د: في وجود الفيروكوجين:
1- يتم ربط الحمض الأميني غلايسين بال ARNt الخاص به 2- يستمر تركيب البروتينات التي لا تحتوي على البرولين . 3- يتوقف تركيب البروتينات التي تحتوي على البرولين.

2. **النص العلمي :** مقدمة : ان ما يضمن استمرار حياة الكائن الحي هو استمرار التفاعلات و النشاطات الحيوية التي تشرف عليها البروتينات غير أن بعض المواد السامة مثل الفيروكوجين و التيلوسين يمكن أن تؤثر سلبا على استمرار حياة الكائن الحي . فكيف يتم ذلك ؟
العرض : تمر عملية تركيب البروتين بمرحل دقيقة و منظمة تبدأ باستنساخ المعلومة الوراثية على مستوى النواة و تصنيع جزيئة ARNm وتنتهي بعملية الترجمة و التي تتم وفق خطوتين أساسيتين:
- الخطوة الأولى يتم فيها ربط الحمض الأميني ب ARNt الخاص به بتدخل انزيم التنشيط مستهلكا طاقة ATP
- الخطوة الثانية يتم فيها تحويل اللغة النووية الى لغة بروتينية (تشكيل سلسلة بيبتيديية) بتدخل الريبوزوم و جزيئة ARNm و نواتج المرحلة الخطوة الأولى .
تتجذب عملية الترجمة بتدخل الفيروكوجين و التيلوسين حيث :
- تثبت الفيروكوجين بفضله بنية التي تحتل موقع جزيئة ARNt و موقع الحمض الأميني البرولين على مستوى انزيم التنشيط مما يؤدي الى تثبيط عملية تنشيط الحمض الأميني البرولين ومنه وقف عملية تركيب البروتينات التي تحتوي على الحمض الأميني البرولين
- يثبث التيلوسين على النفق الخاص بخروج السلسلة البيبتيديية على مستوى تحت الوحدة الكبرى للريبوزوم مانعا بذلك استطالة السلسلة البيبتيديية و توقف مرحلة الترجمة من تركيب البروتين خاتمة : تعمل كلى المادتين على تثبيط عملية تركيب البروتين مما يؤدي الى توقف النشاطات و التفاعلات الحيوية للخلية ما يسبب موت الكائن الحي

التمرين الثاني

مهمة بسيطة: التعريف بالوثيقة + الملاحظات + الاستنتاج.

تمثل الوثيقة(1) نسبة النشاط الخلوي لخلايا جدار الحويصلات الرئوية خلال مرحلتى تركيب البروتين لخلية شخص سليم وأخرى لشخص مصاب بالانتفاخ الرئوي حيث نلاحظ:
أن النشاط الخلوي لخلية الشخص السليم أثناء تركيب البروتين في المرحلتين لاولى والثانية أعظمية(100%)، أما النشاط الخلوي لخلية الشخص المصاب بالانتفاخ الرئوي أثناء تركيب البروتين في المرحلة الأولى يكون أعظمية في حين نسبة نشاطها في المرحلة الثانية ضعيف جدا يكاد ينعدم.

الاستنتاج: التدخين يثبط مرحلة الترجمة.

المشكلة المطروحة : كيف يعطل التدخين تركيب بروتين الإيلاستين على مستوى الترجمة.

2- الفرضيات:

ف1: - يعطل التدخين عملية الترجمة على مستوى الريبوزومات.

ف2: - يعطل التدخين تنشيط الأحماض الأمينية الضرورية للترجمة وتركيب البروتين.

الجزء الثاني:

تفسير منحني الشكل (2) من الوثيقة (2). هنا التفسير نحتاج فيه إلى تحليل ضمني لمنحني الوثيقة

(تقديم ملاحظات)أولا ثم ذكر السبب.

نلاحظ نشاط الخلية NTC يزداد بمرور الزمن مما يدل على حدوث عملية الترجمة وتركيب بروتين الإيلاستين أي تم نسخ الـ ARNm من نواة الخلية المصابة ومغادرته إلى هيولى الخلية السليمة أين تم تنشيط الأحماض الأمينية في وجود إنزيم التنشيط والـ ARNt ثم ترجمة ARNm على مستوى الشبكة الهيولية المحببة للخلية المصابة ومنه تركيب بروتين الإيلاستين في الخلية NTC.

- نشاط الخلية MTC ضعيف جدا يكاد ينعدم يدل على عدم حدوث عملية الترجمة أي أنه تمت عملية استنساخ الـ ARNm من نواة الخلية السليمة ومغادرته نحو هيولى الخلية المصابة لكن لم يتم ترجمته إلى بروتين الإيلاستين بالرغم من وجود الشبكة الهيولية المحببة للخلية السليمة هذا لعدم نشاط أنزيم التنشيط بهيولى الخلية المصابة ومنه عدم تركيب بروتين الإيلاستين في الخلية MTC.

2- مناقشة الفرضيات:

مهمة مركبة: المعلومات المستخرجة من شكلي الوثيقة (قد تم استغلالهما من قبل) لتأكيد أو

نفي صحة الفرضية 1 و2.

- عند استبدال النواة و ش. ه . المحببة بين الخليتين لاحظنا أن الخلية الجديدة التي تحتوي على النواة و ش .

ه . محببة من الخلية المصابة NTC تتم فيها

المرحلة الثانية

من تركيب البروتين أي ترجمة الـ ARNm على مستوى ش. ه . محببة للخلية المصابة التي تحتوي على ريبوزومات ومنه تركيب بروتين الإيلاستين في الخلية NTC وهذا ما ينفي صحة الفرضية 1.

- أما الخلية الجديدة MTC التي تحتوي على النواة و ش .

هـ . محبة من الخلية السليمة فهولي MTC المصابة لم تتم فيها عملية الترجمة بالرغم من توفر النواة و ش . هـ . محبة سليمتين وهذا لعدم تنشيط الأحماض الأمينية وهذا ما يؤكد صحة الفرضية 2.

3- النصيحة: أنصح كل مدخن أن يقلع عن التدخين لأنه مؤدي إلى الموت ولكونه:

- يعطل تركيب البروتينات في الخلايا الخاصة ببروتين الإيلاستين.
- الإيلاستين يجعل جدار الحويصلات مرنة.
- غيابه يجعل جدار الحويصلات غير مرنة (حياة الخلايا متوقف على تركيب البروتينات).
- عدم تركيب البروتينات يؤدي إلى موت الخلايا وبالتالي موت الإنسان.

الجزء الثالث:

