

المستوى : الثالثة ابتدائي

## امتحان الفصل الأخير في مادة التربية العلمية و التكنولوجيا

1 أضع (ص) أمام العبارة الصحيحة ، وحرّف (خ) أمام العبارة الخاطئة في ما يلي:

يُضئُ المِصباحُ عندَ إيصالِ مَرِبِطِيهِ بِقُطْبِي دارةٍ كَهْرَبائِيَّةٍ مُغْلَقَةٍ. (.....)

الْحَواسُّ كَافِيَةٌ لِمُقارَنَةِ وَزْنِ الْأَشْيَاءِ الْمُتقارِنَةِ فِي الْوِزْنِ. (.....)

وَحْدَةُ قِياسِ الْوِزْنِ هِيَ الْكِيلُوغرام (Kg). (.....)

هُنَاكَ نَوْعٌ وَاحِدٌ مِنَ الْمُوازينِ. (.....)

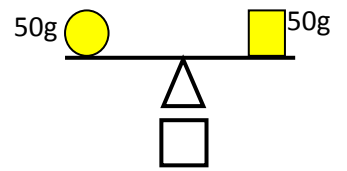
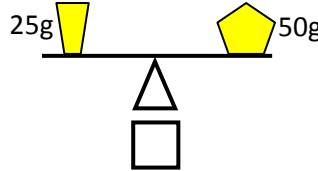
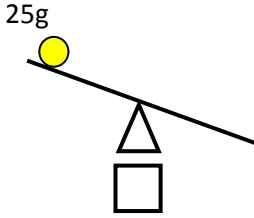
يَنْتُجُ عَن دَوْرانِ الْأَرْضِ حَوْلَ نَفْسِها تَعاقِبُ اللَّيْلِ وَالنَّهَارِ. (.....)

الشَّمْسُ تَدورُ حَوْلَ الْأَرْضِ. (.....)

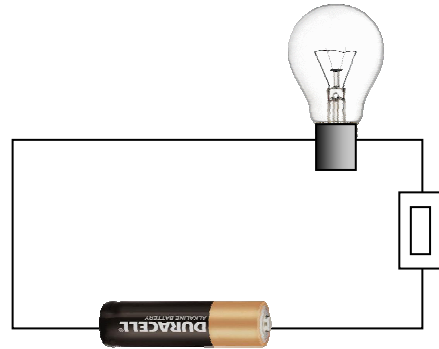
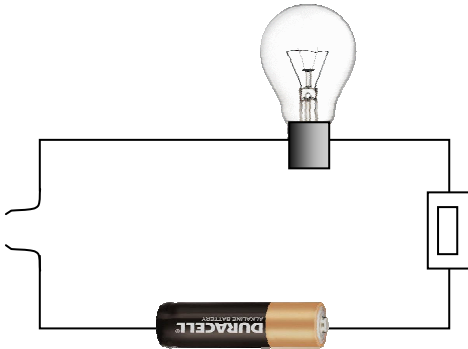
أذكرُ ثلاثةَ أنواعٍ مِنَ الْمُوازينِ:

..... ① ..... ② ..... ③ .....

2 أضع علامة  تحت الحالة الصحيحة و علامة  تحت الحالة الخاطئة:



3 ألون بالأصفر المصباح الذي يشتعل في الدارة الكهربائية :



4 أكمل الفراغات بما يناسب:



تُوحِي لَكَ الْمَنطِقَةُ A: .....

تُوحِي لَكَ الْمَنطِقَةُ B: .....