

نشاط تعريفي



رتب تنازلياً ،،،،

932	672	695	923



رتب تصاعدياً ،،،،



923	923	923	923

أوجد الناتج ،،،،



870
588-

484
408-

636
125+



ضع (>) ، (<) ، ،،

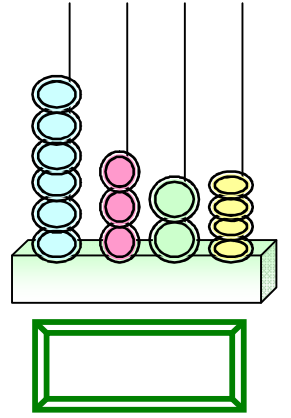
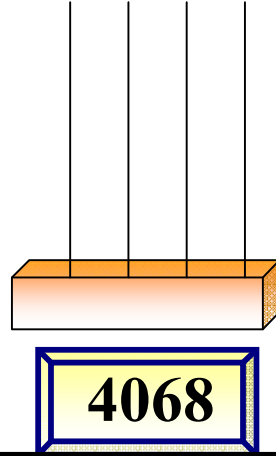
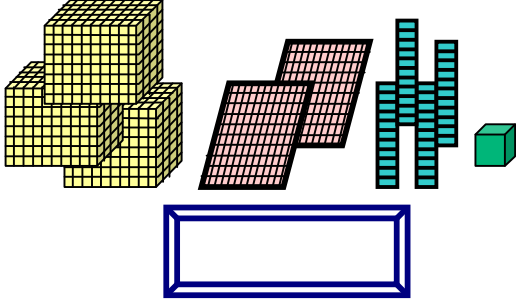
675		265
-----	--	-----

787		887
-----	--	-----

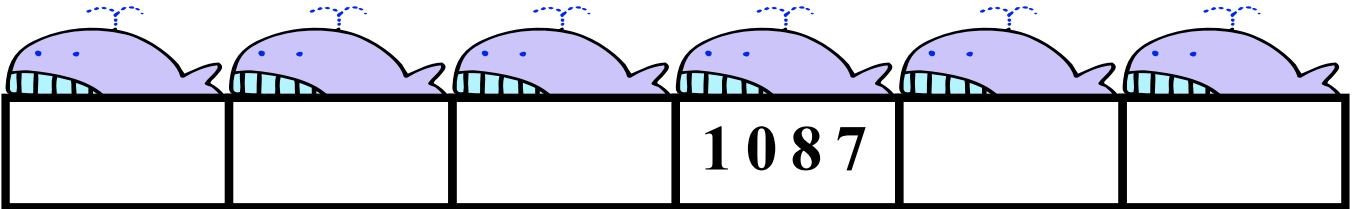
نشاط تعزيزي



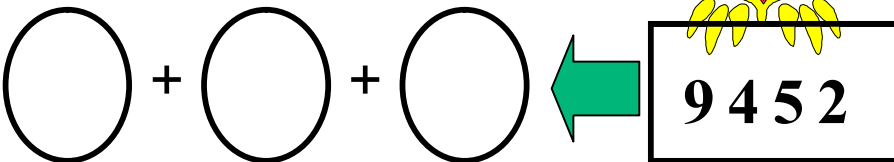
أكمل واكتب رموز الأعداد ،،،



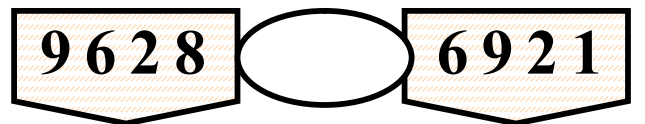
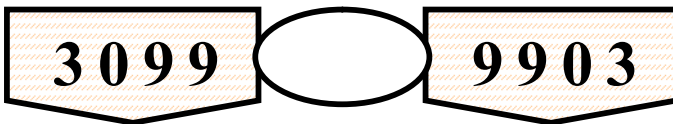
أكمل الأعداد التالية ،،،



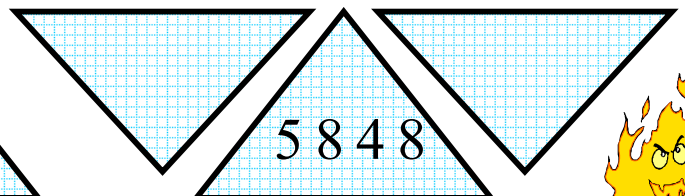

اذكر القيمة المكانية ،،،



ضع (>) ، (<) ، (=) فيما يلي ،،،



اذكر العدد السابق واللاحق ،،،



نشاط تعزيزي



اذكر الناتج ،،،


$$= 3415 - 6482$$

$$= 4536 + 5346$$



ضع (>) ، (<) ، (=) فيما يلي ،،،


2675 6207 9042 8072




279	1958	+
		7051

أكمل الجمع ،،،

كم يزيد 3724 عن 1068 ؟؟



إذا كان عندك 3821 درهماً واشترت أغراضاً بـ
1538 درهماً ،، فكم يبقى معك ؟؟؟؟



نشاط تعزيزي



اكتب رمز العدد ،،،

ألفان وثلاثمائة وواحد



ضع (>) ، (<) ، (=) فيما يلي

5614 ○ 4165 3106 ○ 3160

8900 ○ 9800

أوجد ناتج ما يلي ،،،


2548
3748 +

6183
4549 -

2576
4928 +

رتب تنازلياً ،،،

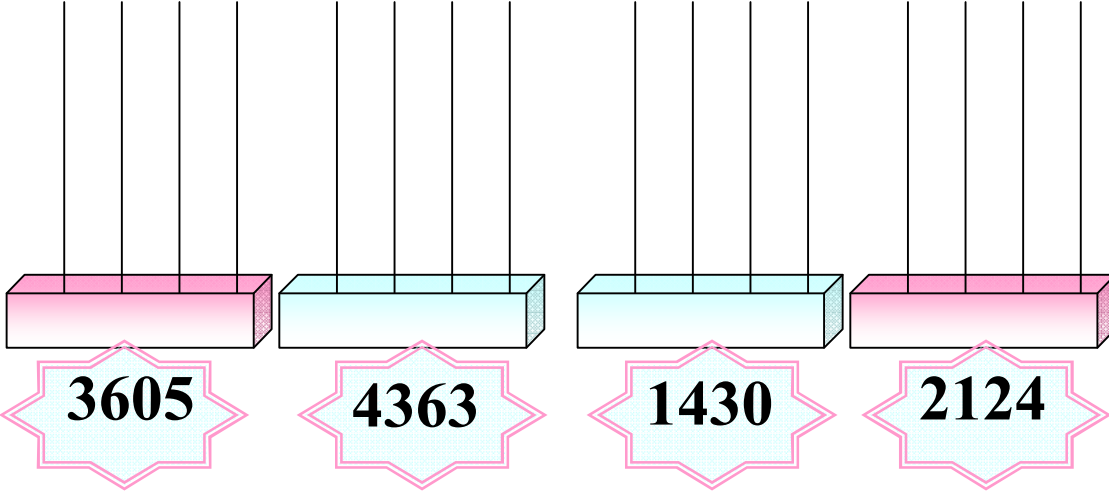
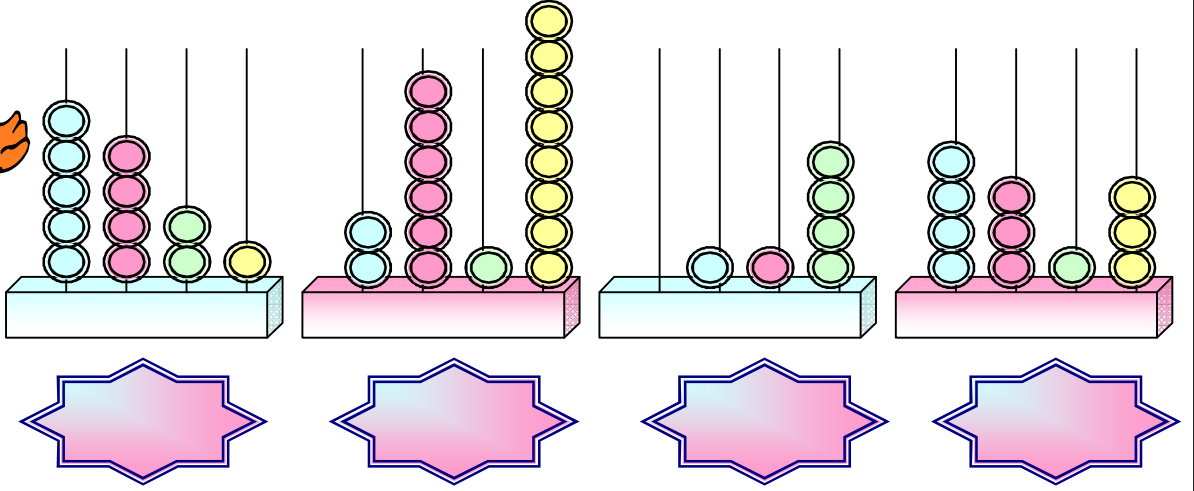

6527 920 2909 6567



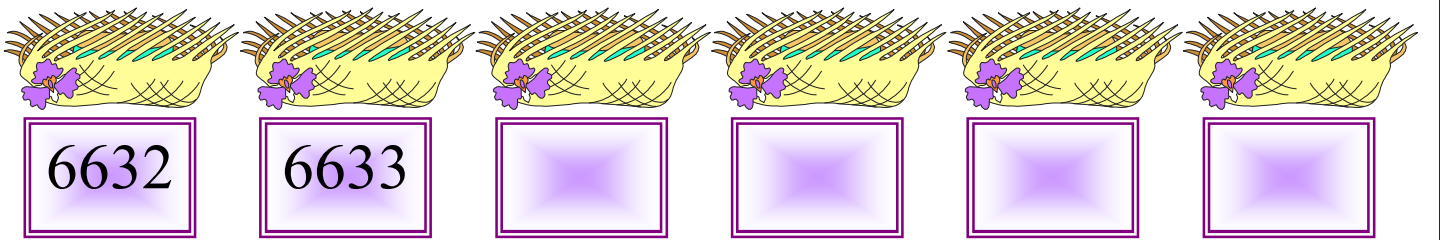
نشاط تعزيزي



اكتب رمز العدد ثم مثل،،،



أكمل كتابة الأعداد ،،،



اذكر السابق واللاحق،،،




نشاط تعزيزي




اكتب القيمة المكانية ،،،

آلاف ومئات وعشرات و أحاد = 3406




اكتب رمز العدد ،،،





9 آلاف و 6مئات و 5 عشرات و 7 أحاد

أكمل السلسلة ،،،



اذكر السابق واللاحق ،،،



أوجد الناتج لما يلي ،،،

9 1 4 3

7 6 6 9 -



5 3 6 7

2 8 4 7 +



8 6 3 2

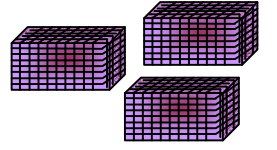
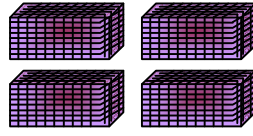
3 7 4 7 -



نشاط تعزيزي


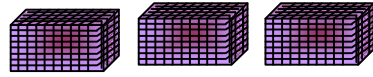


اجمع المئات ،،،



آلاف = آلاف

آلاف + آلاف



آلاف = آلاف

آلاف + آلاف


اذكر ناتج المسائل التالية

$$\begin{array}{r} 9586 \\ + 388 \\ \hline \end{array}$$

$$\begin{array}{r} 6807 \\ - 5468 \\ \hline \end{array}$$

$$\begin{array}{r} 1529 \\ + 7487 \\ \hline \end{array}$$

رتب تنازلياً ،،،




7924

8650

7643

8450


كم يزيد 6534 عن 8400 ؟؟



نشاط تعزيزي




أوجد الناتج ،،،،



6970
4563 -


5327
1654 +

9046
2458 -



رتب تصاعدياً ،،،،

4692	6723	9604	6237



ضع (>) ، (<) ، (=) فيما يلي ،،،،،

1052


○

1253

4962

○


9426



2678

○

2678



اذكر العدد السابق واللاحق لما يلي ،،

--

○

4072

○

--

--

○

5840

○

--



أوجد ناتج المسائل
التالية ،،

اجمع 2327 و 1225 ؟

.....



كم يزيد 9524 عن 2618 ؟

.....



انقص 6152 من 8743 ؟

.....




ما مجموع 2198 و 4812 ؟

.....





$$\begin{array}{r} 8321 \\ 5675 - \\ \hline \end{array}$$



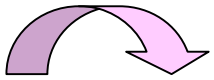

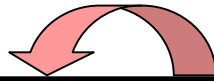
$$\begin{array}{r} 2247 \\ 5688 \quad \bigcirc \\ \hline 7935 \end{array}$$

$$\begin{array}{r} 3974 \\ 3526 \quad \bigcirc \\ \hline 448 \end{array}$$



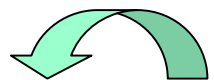
$$\begin{array}{r} 4306 \\ 2567 \quad \bigcirc \\ \hline 6873 \end{array}$$

$$\begin{array}{r} 1453 \\ 7729 \quad \bigcirc \\ \hline 9182 \end{array}$$



$$\begin{array}{r} 7245 \\ 1156 \quad \bigcirc \\ \hline 6089 \end{array}$$

$$\begin{array}{r} 8170 \\ 6465 \quad \bigcirc \\ \hline 1705 \end{array}$$





أوجد الناتج ،،
ولك حلوى لذيذة

162



843

6298 +



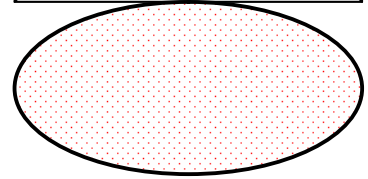
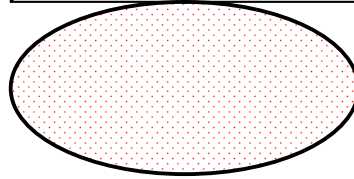
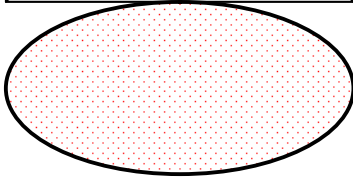
5480

5296 -



3527

5478 +



8321

5675 -



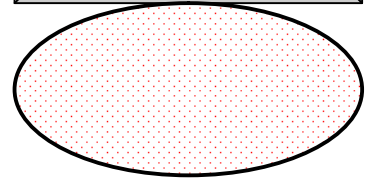
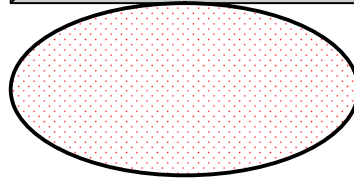
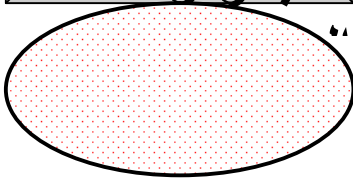
4625

2847 +



8432

5165 -



اكتب رمز