

التمرين 1: أكتب الأعداد المحصورة بين العددين 430 و 950

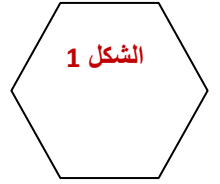
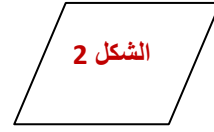
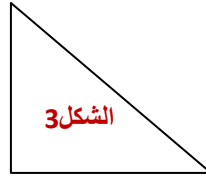
560 - 480 - 300 - 920 - 610 - 290 - 710 - 180 - 834 - 370

التمرين 2: أضع < أو > أو =

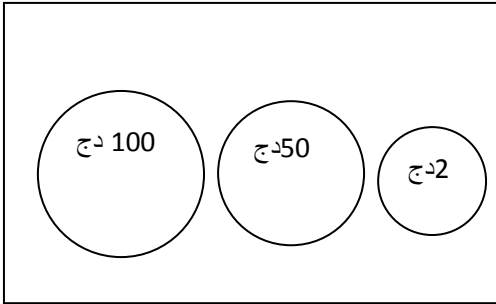
460 . 360 / 130 . 103 / 100+ 200+500 . 800 / 640 . 570 / 230 . 320

التمرين 3: ألاحظ ثم أكمل الجدول

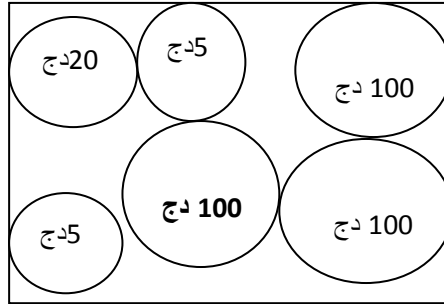
الأشكال	عدد الرؤوس	عدد الأضلاع
1		
2		
3		



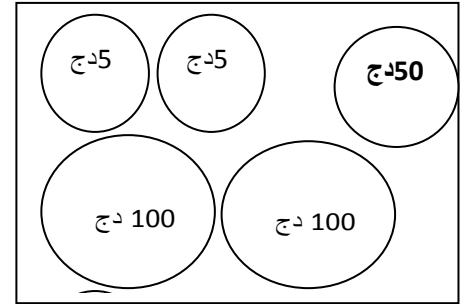
التمرين 3: أربط بينهم بين المبلغ ورسمه



260 ديناراً



152 ديناراً



330 ديناراً

التمرين 4: عند الخبز 390 خبزة، باع في الصباح 160 خبزة، و في المساء 175 خبزة

كم خبزة بقيت عند الخبز؟

كم خبزة باع الخبز؟

.....

.....

.....

.....

.....

.....

.....

.....