

امتحان الفصل الثاني

رياضيات

التمرين الأول:

أميز و أكتب أمام كل عدد فردي أو زوجي:

320 ← عدد

499 ← عدد

653 ← عدد

التمرين الثاني:

أكتب الأعداد المحصورة بين 130 و 160 والتي يكون رقم أحدها 7:

التمرين الثالث:

أكمل إلى المئة المئوية:

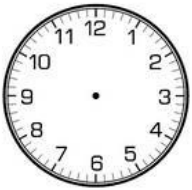
$$253 + \dots = 300$$

$$\dots + 514 = 600$$

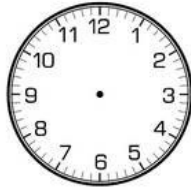
$$777 + \dots = 800$$

التمرين الرابع:

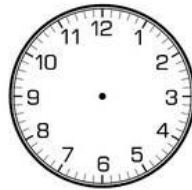
لاحظ الوقت الذي تشير إليه كل ساعة و أتمم :



06:45



08:15



11:20



.....



.....

التمرين الخامس:

يملك فلاح 584 أرنابا باع منها في الأسبوع الأول 220 أرنابا، وباع في الأسبوع الثاني 212 أرنابا.

- كم أرنابا باع في الأسبوعين؟

.....

- كم أرنابا بقي؟

.....

.....
.....
.....