


## اكتشف

### ألاحظ وأبحث :



بمناسبة عيد ميلاد أمين، أهدت له جدته أرنبا وأرنبة، فوضع كل واحد منهما في صندوق.

وبعد مدة سأل جدته عن سبب عدم ولادة الأرنبة صغارا :

اشرح لأمين سبب ذلك .

لاحظ الصورة المقابلة :










– مما تتكون هذه العائلة الحيوانية قبل ولادة الصغار؟

– كيف تستطيع أن تميز بين الذكر والأنثى في هذه الصورة؟

هل ازداد عدد أفرادها الآن؟ على ماذا يدل ذلك؟

## أنجز

### اربط كل ذكر بالأنثى التي المناسبة لحدوث التكاثر :



## تعلمت

يتواجد ذكر الحيوان والأنثى معا من أجل التكاثر .