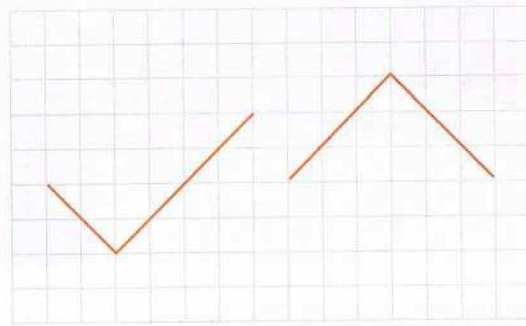
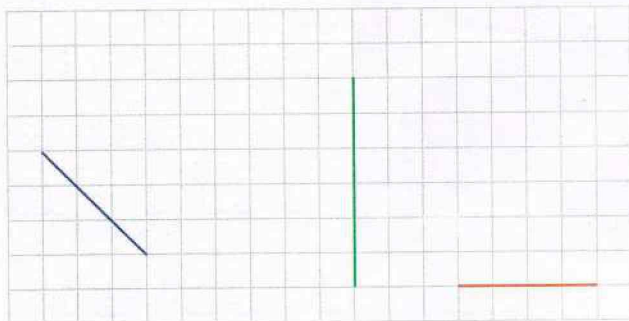


حساب ذهني يذكر الأستاذ ثلاثة أعداد، ويطلب من التلاميذ كتابتها مرتبة ترتيبها تنازلياً، ويكرر العملية.

أَكْتَشِفْ

1- أَكْمِلْ رَسْمَ كُلِّ شَكْلٍ:

2- أَكْمِلْ رَسْمَ 3 مَثَلَاتٍ كُلٌّ مِنْهُمَا قَائِمٌ:

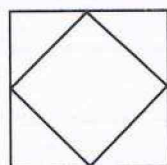


مستطيل

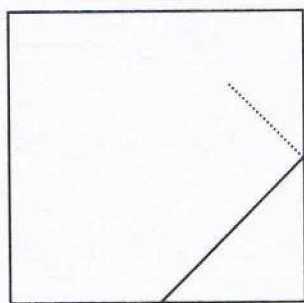
مربع

أَنْجِزْ

أَكْمِلْ رَسْمَ الشَّكْلَيْنِ 1 وَ 2 طَبَقًا لِنَمُودَجِ كُلِّ مِنْهُمَا:

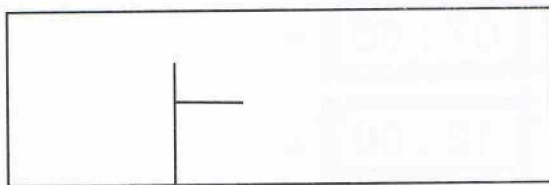
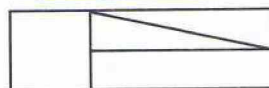


نموذج (2)



الشَّكْلُ 2

نموذج (1)



الشَّكْلُ 1

تَعَلَّمْتُ

لِرَسْمِ أَوْ إِتْمَامِ شَكْلِ هَنْدَسِيٍّ، أَبْدَأُ بِالتَّعَرُّفِ عَلَى خَصَائِصِ أَضْلَاعِهِ وَزَوَايَاهُ.