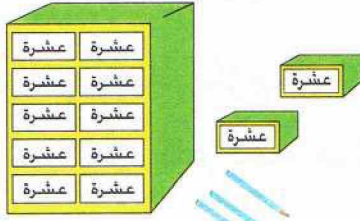


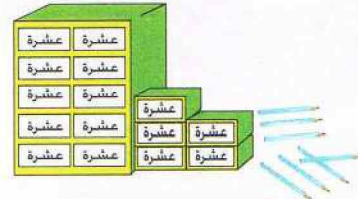
حساب ذهني يملي الأستاذ على التلاميذ عددا أصغر من 100 ويطلب منهم أقرب عشرين إليه. مثلا يملي الأستاذ العدد 27 التلميذ يجيب 20 و30.

## اكتشف

1- اكتب عدد الأقلام في كل من الحالتين.

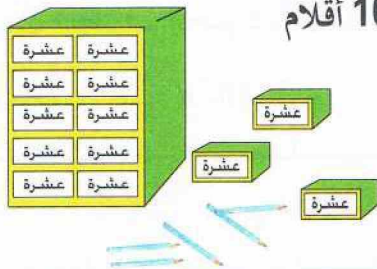


و	ع	م
.....	.....	.....

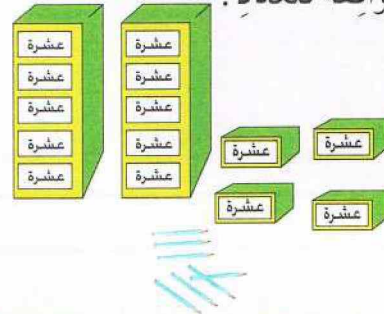


و	ع	م
.....	.....	.....

2- احط الأقلام الموافقة للعدد:



103 أقلام



133 قلمًا

## أنجز

اكتب الأعداد في الجدول:

م	ع	و
.....	.....	.....

م	ع	و
.....	.....	.....

م	ع	و
.....	.....	.....

م	ع	و
.....	.....	.....

## تعلمت

توجد مرتبة المئات على يسار مرتبة العشرات، ونكتب فيها رقم المئات عندما نكتب عددًا أكبر من 99.