

## أَجْنِدُ مَعَارِفِي (2)




رائد



أمين




مريم






2 اشرح الصورة

1 اكتشف الأخطاء في قياس الخط الأحمر ثم عيّن الطول.



3 أكمل باستعمال الكلمات: على؛ بين؛ أمام.

جلست مريم ..... أمها وأخيها الأكبر  
جلس أمين ..... الأرض و ..... التلفاز.



4 في علبة الشوكولاتة 100 قطعة.

أكل منها أمين 13 ، وأكلت ليلى 9.

ما هو عدد القطع الباقية؟



5 اربط كل مفتاح بالصندوق المناسب.

المُناسب .

الإجابة: .....