
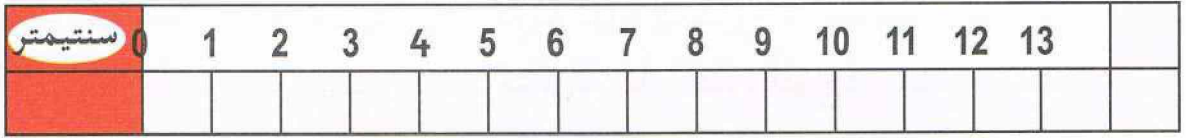


حساب ذهني يطلب الأستاذ من التلاميذ أن يذكروا 5 أعداد انطلاقاً من عدد معطى مع القفز 4، 4. مثلاً يملي عليهم العدد 5 والتلميذ يكتب على لوحته 9 - 13 - 17 - 21 - 25.

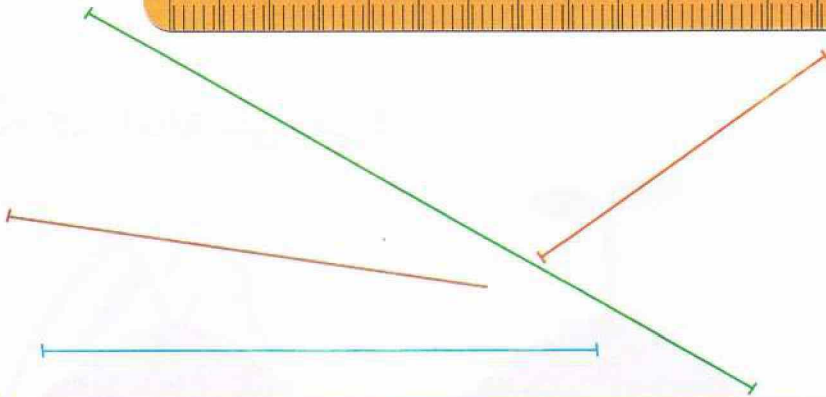

اكتشف

استعمل المسطرة المدرجة لقياس أطوال الخطوط.



أنجز

استعمل المسطرة المدرجة بالسنتيمتر لقياس أطوال القطع.



..... سنتيمتر	القطعة الحمراء
..... سنتيمتر	القطعة الخضراء
..... سنتيمتر	القطعة الزرقاء
..... سنتيمتر	القطعة البنية

تعلمت

لقياس طول قطعة بالمسطرة المدرجة أضع التدريجة 0 على أحد طرفي هذه القطعة، ثم اقرأ التدريجة الموجودة على الطرف الآخر من هذه القطعة.