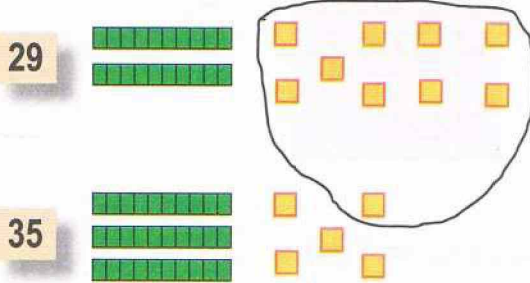


حساب ذهني يعرض الأستاذ على التلاميذ مربعات لا يتعدى عددها 10 وبطاقات تتضمن 10 مربعات، والتلاميذ يكتبون العدد الموافق على الواهم.

أَكْتَشِفْ

أَكْمِلِ الْفَرَائِغَاتِ لِحِسَابِ الْمَجْمُوعِ $29 + 35$.



$$29 = 20 + \dots$$

$$35 = 30 + \dots$$

$$9 + 5 = 10 + \dots$$

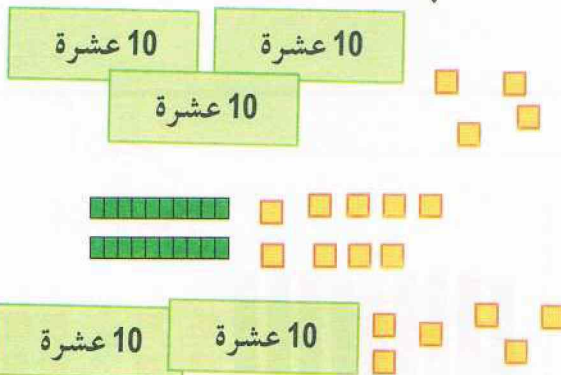
$$20 + 30 + 10 = \dots$$

$$29 + 35 = 60 + \dots = \dots$$

أَكْمِلِ.

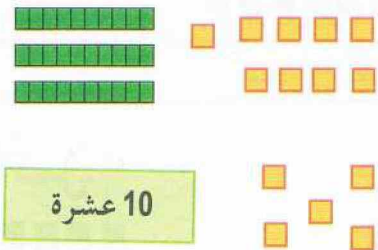
أَنْجِزْ

2- أَحْسِبْ $34 + 29 + 26$.



$$34 + 29 + 26 = \dots$$

1- أَحْسِبْ $38 + 15$.



$$38 + 15 = \dots$$

تَعَلَّمْتُ

عِنْدَمَا أَجْمَعُ أَفْقِيًّا أَعْدَادًا تَتَكَوَّنُ مِنْ رَقْمَيْنِ، أَبْدَأُ بِتَجْمِيعِ 10 وَحَدَاتٍ لِتَكْوِينَ 10 وَحَدَةً، ثُمَّ أَجْمَعُهَا مَعَ الْعَشْرَاتِ، وَأَكْمِلُ الْحِسَابَ بِجَمْعِ الْعَشْرَاتِ النَّاتِجَةِ مَعَ الْوَحَدَاتِ الْمُتَبَقِّيَّةِ.