

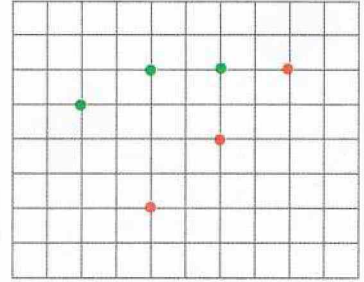
حساب ذهني يعطي الأستاذ عددين أصغر من 60 ويطلب من التلاميذ تعيين العدد الأكبر (أو العدد الأصغر)، ويكرّر العملية.

أَكْتَشَفْ

1- 3 نُقْطٍ فِي اسْتِقَامِيَّةٍ .


مَا لَوْنُهَا ؟

صِلْ بَيْنَهَا بِالْمِسْطَرَّةِ .



2- 4 نُقْطٍ فِي اسْتِقَامِيَّةٍ .

صِلْ بَيْنَهَا بِالْمِسْطَرَّةِ .

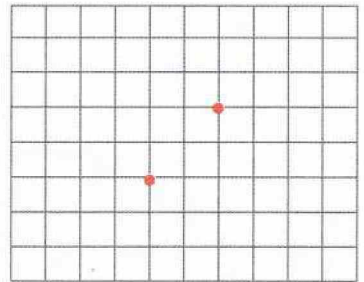


أَنْجِزْ

1- عَلِّمْ عَلَى الْمَرْصُوفَةِ 3 نُقْطٍ

فِي اسْتِقَامِيَّةٍ مَعَ النُّقْطَتَيْنِ الْحُمْرَاوَيْنِ .


صِلْ بَيْنَهَا بِالْمِسْطَرَّةِ .



2- اسْتَعْمِلِ الْمِسْطَرَّةَ وَعَلِّمْ 3 نُقْطٍ فِي اسْتِقَامِيَّةٍ

مَعَ النُّقْطَتَيْنِ الْخَضْرَاوَيْنِ .

قَارِنْ مَعَ رَسْمِ زَمِيلِكَ .



تَعَلَّمْتُ

تَكُونُ نُقْطٌ فِي اسْتِقَامِيَّةٍ إِذَا لَامَسَتْ حَافَةَ مِسْطَرَّةٍ .