


عَدَّ كَمِّيَّاتٍ صَغِيرَةً

حساب ذهني يعدّ التلاميذ متتالية الأعداد الطبيعية انطلاقاً من 1. يبدأ التلميذ الأوّل بالعدد 1 يكمل زميله بالعدد 2، ثمّ الذي يليهما بالعدد 3، ثمّ يذكر التلميذ الموالي لهم العدد 4، وهكذا بالنسبة لبقية التلاميذ.

اكتشف



1- أَحْسِبْ عَدَدَ الْعَصَافِيرِ.



عَدَدُ الْعَصَافِيرِ هُوَ

2- كَمْ مِنْ كِتَابٍ يُوجَدُ عَلَى الرَّفِّ؟

أنجز

1- أَحْسِبْ عَدَدَ الْقَرِيصَاتِ.

3- كَمْ بِطَاقَةً تُوَجَدُ؟



2- أَحِطْ 25 قَرِيصَةً.

9

63

31

24

42

4- اربط كل عدد بكتابته.

واحد وثلاثون

تسعة

ثلاثة وستون

اثنان وأربعون

أربعة وعشرون

5- كم نقطة توجد؟



تعلمت

عندما أعدّ كمّيات أعدّها واحداً واحداً ثمّ أجمعتها في رزم ذات 10 عناصر، وبعدها أجمعت العشرات التي وجدتها مع العناصر المتبقية.