





السنة الدراسية 2017 / 2016	المادة : رياضيات	مدرسة شيخي عبد القادر درمام سيديو
المقطع : الثاني	الميدان : الاعداد والحساب	الاستاذ : بن عبد القادر عبد الصمد
الاسبوع : الرابع	الموضوع : اسبوع الامااج	المستوى : السنة الاولى ابتدائي
الحصة : 1	أجند معارف (تعلم الامااج)	

مؤشر الكفاءة : يستثمر معرفته ومكتسباته السابقة

المراحل	الوضعية التعليمية التعلمية	مؤشر الكفاءة	تقويم
الاطلاق	يطلب المعلم على التلاميذ الاعداد 8 9 5 2 يسأل ما هي الاغذية الصحية التي يجب ان نتناولها وجدت اوساخ في الساحة ماذا يجب عليك ان تفعل	يكتب ويجيب	تفصيلي
بناء التعلّمات	<p>النشاط 1</p> <p>يسأل المعلم ماذا تلاحظون في الصورة اطفال ماذا يلعبون ماهو لون كل فريق يقول عند كل دقة على سيورة يسجل الفريق هدفا المعلم يديق والتلاميذ يعدون يطلب المعلم كتابة النتيجة على الالواح وهكذا مع الفريق الثاني يسأل المعلم من الافاز الفريق الاحمر 7 او الاخضر 10 يصحح المعلم 10 بدل 12 لان هم لم يتوصلو الى العدد 12 اكر نتيجة كتبت الالواح النشاط الثاني يسأل المعلم ماذا تلاحظون ترى ماذا احضرت العائلة للذئاف</p> <p>1. الفريق الاحمر 7 والفريق الاخضر 12. من الفائز ؟ 2. الفتح وخبثة شمرادونة للماثلة.</p>   <p>النشاط الثالث يوزع المعلم على كل تلميذ بطاقة خضراء وبطاقة حمراء يطلب المعلم على السيورة الصور الثلاث ويطلب منه رفع البطاقة الخضراء للتصرف الجيد والحمراء للتصرف السيء</p>   	يلاحظ يعبر يكتب يجيب	تكويني
المكتسبات	على الالواح ينجز المتعلم العمليات $=3+2$ $=1+5$ $=4+6$ <p>ثم ينجزها على كراسالقمم</p>	يقرأ يذكر الاغذية المتوازنة	تفصيلي