

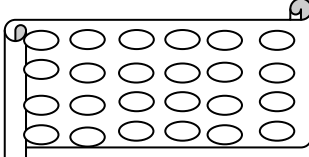

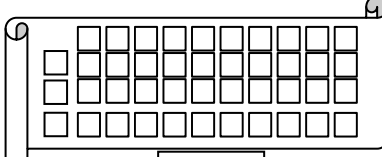
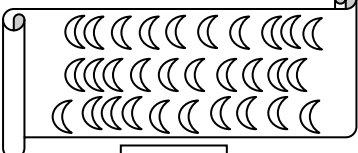
اختبار شهر فيفري في الرياضيات

التمرين الأول : أكمل الشريطين التاليين

20	21				25				28	
----	----	--	--	--	----	--	--	--	----	--

30		32			35				39	
----	--	----	--	--	----	--	--	--	----	--

التمرين الثاني: أكتب العدد المناسب بعد العد

			
<input type="text"/>	<input type="text"/>	<input type="text"/>	<input type="text"/>

التمرين الثالث : انجز كل مجموع / اكمل كل مساواة

$8+2=.$        $7+7=.$        $8+5=.$        $10+10=.$        $31= ..+.$

$40= ..+0=..+..+..+..+.$        $46= ..+.$        $56=..+6=..+..+..+..+.$

التمرين الرابع : لون الخانة المناسب

50	أكْبَرُ مِنْ	50		37	46		42	8		
	أصْغَرُ مِنْ								أكْبَرُ مِنْ	أصْغَرُ مِنْ
	تُسَاوِي								تُسَاوِي	تُسَاوِي

التمرين الخامس : أكمل بالعدد المناسب

العدد الذي يلي	العدد	العدد الذي يسبق
<input type="text"/>	9	<input type="text"/>
<input type="text"/>	35	<input type="text"/>
<input type="text"/>	44	<input type="text"/>