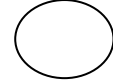
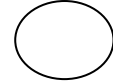


اختبار الفصل الثاني في التربية التشكيلية

التمرين الأول: ضع (ص) أو (خ) في المكان المناسب. 2 ن

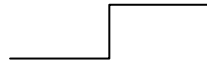


لون السماء أسود



لون الماء شفاف

التمرين الثاني: اربط بسهم بين الكلمة وما يناسبها. 2 ن



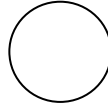
خط مستقيم



خط منكسر



خط منحنى



خط دائري

التمرين الثالث: أصل الأرقام لأكتشف الرسم ثم ألونه باللون المناسب : 3 ن

. 10

9 . 8 . . 12 . 11

7 . 6 . . 14 . 13

5 . . 4 . . 16 . 15

3 . 2 . . 18 . 17

1 . . 19