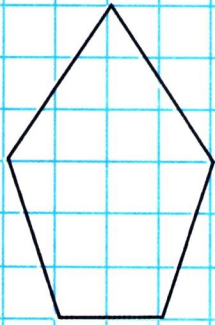


• الحِسابُ الذَّهْنِيُّ : يسمي المعلم ثلاثة أعداد متتابعة وأصغر من 60 ، وبعد 10 ثوان يكتب التلاميذ الأعداد الثلاثة بعد إضافة أو حذف 1 من كل عدد.

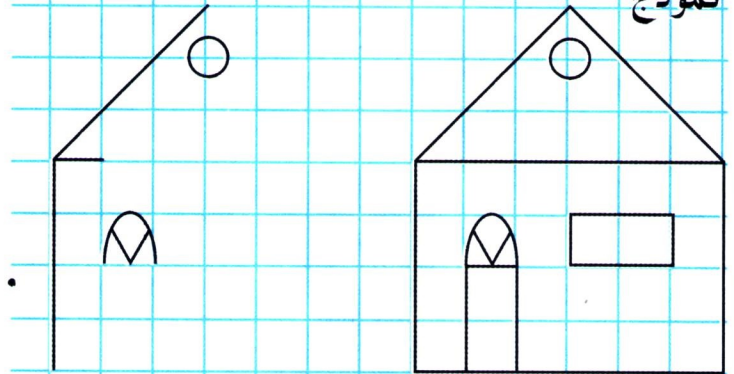
اكتشف

1. بدأت حين رسم المنزل حسب النموذج. أكمل الرسم.
2. أرسم مثيلاً للنموذج انطلاقاً من النقطة الخضراء.

نموذج

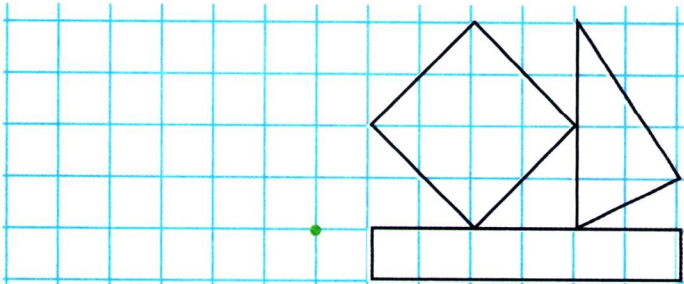


نموذج




أنجز

1. أكمل الرسم.
2. أرسم مثيلاً للنموذج انطلاقاً من النقطة الخضراء.



تعلمت

لرسم قطعة على مرصوفة، أبدأ بتعيين طرفي القطعة بعد عقد المرصوفة بين الطرفين أفقياً وعمودياً، ثم أصل بينهما بمسطرة.



النقطة الخضراء ← ↓ ↓ النقطة الحمراء