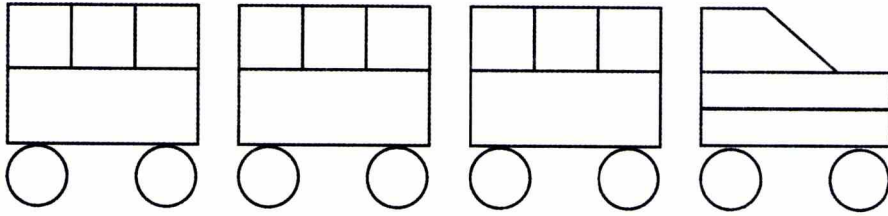


• الحساب الذهني : مجموعة من التلاميذ يعدون تنازليا بالتناوب انطلاقا من عدد أصغر أو يساوي 10، مع أكبر عدد ممكن من التلاميذ . (الاستعانة بكل ما يمكن عده من أشياء).

اَكْتَشَفُ

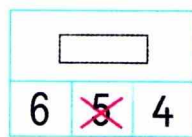
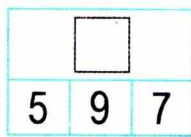
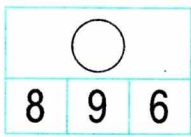
1. لَوْنُ مَكُونَاتِ الْقِطَارِ :



■ بِالْأَخْضَرِ

■ بِالْأَحْمَرِ

● بِالْأَصْفَرِ

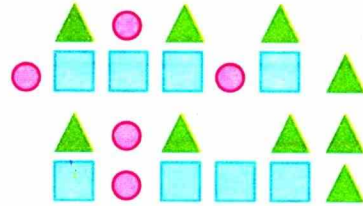
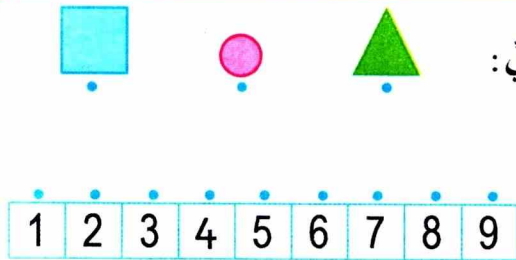


2. عُدَّ الْأَشْكَالَ فِي كُلِّ حَالَةٍ وَعَيَّنِ

الإجابة الصحيحة كما في المثال :

اُنْجِزُ

1. اِرْبِطْ كُلَّ شَكْلِ بِالْعَدَدِ الْمُنَاسِبِ عَلَى الشَّرِيْطِ الْعَدَدِيِّ :




2. لَوْنُ :

8 قُرَيْصَاتٍ بِالْأَخْضَرِ .

6 قُرَيْصَاتٍ بِالْأَحْمَرِ .

5 قُرَيْصَاتٍ بِالْأَزْرَقِ .



سِتَّةَ 6 6 6 6

سَبْعَةَ 7 7 7 7

3. اَكْتُبْ

تَعَلَّمْتُ

لِتَذَكُّرِ كَمِّيَّةِ أَعْدَدِ أَشْيَاءِهَا، وَأَحْفَظُ آخِرَ عَدَدٍ تَوَقَّفْتُ عِنْدَهُ فِي الْعَدِّ.