

• الحساب الذهني : على الشريط العددي يغطي المعلم عددا أصغر أو يساوي 10، ويكتب التلاميذ العدد المغطى على ألواحهم، مع التكرار

### أكتشف

1. تريد ليلي إصاق صور أخرى على الصفحة الأخيرة من ألبومها، حيث تكون الصور



بقدر صور الصفحة المقابلة.

تلصق ليلي ..... صور.

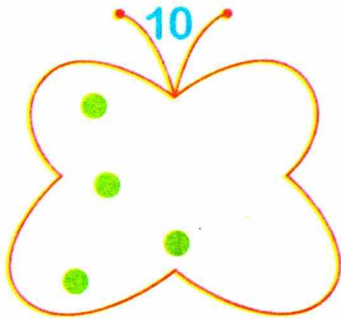
2. أكمل حساب المجموع:  $3 + 7 = \dots\dots\dots$

3. يمكن إصاق ..... صور على كل صفحة من

صفحات الألبوم.


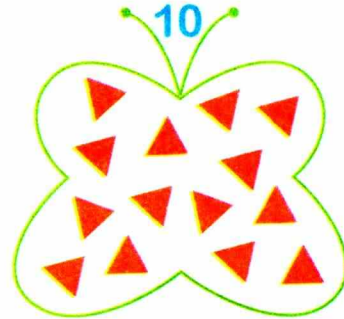
### أنجز

2. أكمل رسم القرصات الناقصة:



1. عدّ المثلثات بقدر العدد المكتوب على

البطاقة، وأشطب المثلثات الزائدة:



3. أحط 10 كرات.

4. أكمل الكتابة: 10، 10، .....

### تعلمت

العدد عشرة يكتب برقمين، هما الصفر والواحد، هكذا 10.