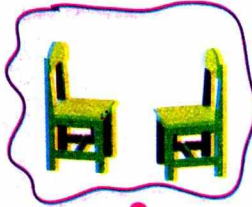


• الحساب الذهني : يعد تلميذ ما يستطيع من سلسلة الأعداد ، وهكذا مع أكبر عدد ممكن من التلاميذ .

## اكتشف

■ اربط كل صورة بالعدد المناسب .



1 2 3 4 5

1 2 3 4 5

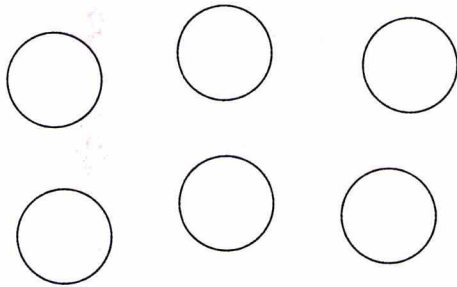
1 2 3 4 5

1 2 3 4 5


1 2 3 4 5

## انجز

1. لَوْنُ حَسَبِ مَا يُطَلَبُ مِنْكَ .



– لَوْنُ قُرَيْصَةٍ وَاحِدَةٍ بِاللَّوْنِ البُرْتُقَالِي





– لَوْنُ 3 قُرَيْصَاتٍ بِاللَّوْنِ الأزرق



– لَوْنُ قُرَيْصَتَيْنِ اثْنَتَيْنِ بِاللَّوْنِ الأخضر

2. اربط كل بطاقة بالعدد المناسب .



5

4

3

2

1

## تعلمت

أَسْتَعْمِلُ أَصَابِعَ يَدِي لِتَعْيِينِ الأعداد 1 ، 2 ، 3 ، 4 ، و 5 كَمَا فِي الصُّورَةِ .



5

4

3

2

1